



**ESERCIZIO sulle tabelline 0 – 6**

**1. Colora o cerchia il risultato giusto**

$0 \times 6 =$	0	2	1
$0 \times 4 =$	0	3	1
$1 \times 6 =$	6	4	7
$1 \times 5 =$	1	5	2
$1 \times 2 =$	1	2	3
$4 \times 8 =$	6	32	23
$6 \times 2 =$	12	0	1
$6 \times 4 =$	1	24	0
$6 \times 5 =$	5	1	30
$6 \times 9 =$	54	1	0
$2 \times 7 =$	12	14	13
$2 \times 8 =$	8	61	16
$3 \times 6 =$	18	81	6
$4 \times 5 =$	15	20	2
$5 \times 8 =$	8	15	40
$6 \times 10 =$	60	1	30
$3 \times 7 =$	9	21	12
$5 \times 10 =$	0	6	50
$5 \times 9 =$	45	54	16
$6 \times 8 =$	36	84	48

**2. Completa i fiori delle tabelline del 5 e del 6**



**3. Calcola aiutandoti con i disegni se lo ritieni necessario:**

a) Valeria possiede 6 figurine, ma Jacopo ne ha il doppio. Quante figurine ha Jacopo?



Operazione.....

b) Ho comprato 5 banane e le arance; le arance sono il triplo delle banane. Quante sono le arance?



Operazione.....

c) Virginia ha costruito 7 ventagli. Carolina ne ha fatti il doppio. Quanti ventagli ha fatto Carolina?



Operazione.....

d) Cristina ha comprato 3 carote e 7 carciofi. Quanti ortaggi ha comprato in tutto Cristina? Se la sua amica Veronica ne ha comprati il triplo, quanti ortaggi ha acquistato la sua amica Veronica?





Operazione.....

## 1. Colora o cerchia il risultato giusto

$0 \times 6 =$	0	2	1
$0 \times 4 =$	0	3	1
$1 \times 6 =$	6	4	7
$1 \times 5 =$	1	5	2
$1 \times 2 =$	1	2	3
$4 \times 8 =$	6	32	23
$6 \times 2 =$	12	0	1
$6 \times 4 =$	1	24	0
$6 \times 5 =$	5	1	30
$6 \times 9 =$	54	1	0
$2 \times 7 =$	12	14	13
$2 \times 8 =$	8	61	16
$3 \times 6 =$	18	81	6
$4 \times 5 =$	15	20	2
$5 \times 8 =$	8	15	40
$6 \times 10 =$	60	1	30
$3 \times 7 =$	9	21	12
$5 \times 10 =$	0	6	50
$5 \times 9 =$	45	54	16
$6 \times 8 =$	36	84	48

20

## 2. Completa i fiori delle tabelline del 5 e del 6



20

## 3. Calcola aiutandoti con i disegni se lo ritieni necessario:

a) Valeria possiede 6 figurine, ma Jacopo ne ha il doppio. Quante figurine ha Jacopo?

Operazione..... $6 \times 2 = 12$ .....

b) Ho comprato 5 banane e le arance; le arance sono il triplo delle banane. Quante sono le arance?

Operazione..... $5 \times 3 = 15$ .....

c) Virginia ha costruito 7 ventagli. Carolina ne ha fatti il doppio. Quanti ventagli ha fatto Carolina?

Operazione..... $7 \times 2 = 14$  .....

d) Cristina ha comprato 3 carote e 7 carciofi. Quanti ortaggi ha comprato in tutto Cristina? Se la sua amica Veronica ne ha comprati il triplo, quanti ortaggi ha acquistato la sua amica Veronica?

Operazione... $3 + 7 = 10$  .....  $10 \times 3 = 30$ .....

CRITERI per 44 richieste

44 esatt	43 esatt	42-40 esatt	39-38 esatt	37-36 esatt	35-34 esatt	33-31 esatt	30-29 esatt	28-27 esatt	26-25 esatt	24-23 es	22 esatte
10	10 <sub>meno</sub>	9,5	9	8,5	8	7,5	7	6,5	6	5,5	5

0 errori	1err	2-4 err	5-6 err	7-8 err	9-10 err	11-13 err	14-15 err	16-17 err	18-19 er	20-21 er	22 e più er
10	10 <sub>meno</sub>	9,5	9	8,5	8	7,5	7	6,5	6	5,5	5