



ESERCIZIO sulle tabelline 0 – 4

1. Colora o cerchia il risultato giusto

$0 \times 4 =$	0	2	1
$0 \times 3 =$	0	3	1
$1 \times 4 =$	1	4	7
$1 \times 0 =$	1	0	2
$1 \times 3 =$	1	0	3
$4 \times 8 =$	6	0	32
$0 \times 2 =$	9	0	1
$1 \times 2 =$	1	2	0
$1 \times 5 =$	5	1	0
$1 \times 9 =$	9	1	0
$2 \times 7 =$	12	14	13
$2 \times 8 =$	8	16	2
$2 \times 6 =$	12	6	5
$3 \times 5 =$	15	10	2
$3 \times 8 =$	8	15	24
$3 \times 10 =$	10	1	30
$4 \times 2 =$	9	0	8
$4 \times 1 =$	0	6	4
$4 \times 4 =$	10	9	16
$4 \times 9 =$	36	0	63

2. Completa i fiori delle tabelline del 3 e del 4



3. Calcola aiutandoti con i disegni se lo ritieni necessario:

a) Silvia possiede 8 figurine, ma Andrea ne ha il doppio. Quante figurine ha Andrea?



Operazione.....

b) Ho comprato 4 banane e le mele; le mele sono il triplo delle banane. Quante sono le mele?




Operazione.....

c) Giulia ha costruito 5 pesci d'aprile. Giacomo ne ha fatti il doppio. Quanti pesci ha fatto Giacomo?



Operazione.....

d) Elisa ha comprato 6 banane e le arance; le arance sono il triplo delle banane. Quante sono le arance?



Operazione.....



CORREZIONE E CRITERI DI VALUTAZIONE

1. Colora o cerchia il risultato giusto

$0 \times 4 =$	0	2	1
$0 \times 3 =$	0	3	1
$1 \times 4 =$	1	4	7
$1 \times 0 =$	1	0	2
$1 \times 3 =$	1	0	3
$4 \times 8 =$	6	0	32
$0 \times 2 =$	9	0	1
$1 \times 2 =$	1	2	0
$1 \times 5 =$	5	1	0
$1 \times 9 =$	9	1	0
$2 \times 7 =$	12	14	13
$2 \times 8 =$	8	16	2
$2 \times 6 =$	12	6	5
$3 \times 5 =$	15	10	2
$3 \times 8 =$	8	15	24
$3 \times 10 =$	10	1	30
$4 \times 2 =$	9	0	8
$4 \times 1 =$	0	6	4
$4 \times 4 =$	10	9	16
$4 \times 9 =$	36	0	63

20

2. Completa i fiori delle tabelline del 3 e del 4



20

3. Calcola aiutandoti con i disegni se lo ritieni necessario:

a) Silvia possiede 8 figurine, ma Andrea ne ha il doppio. Quante figurine ha Andrea?

Operazione..... $8 \times 2 = 16$

b) Ho comprato 4 banane e le mele; le mele sono il triplo delle banane. Quante sono le mele?

Operazione..... $4 \times 3 = 12$

c) Giulia ha costruito 5 pesci d'aprile. Giacomo ne ha fatti il doppio. Quanti pesci ha fatto Giacomo?

Operazione..... $5 \times 2 = 10$

d) Elisa ha comprato 6 banane e le arance; le arance sono il triplo delle banane. Quante sono le arance?

Operazione..... $6 \times 3 = 18$ **4**

CRITERI per 44 richieste

44 esatt	43 esatt	42-40 esatt	39-38 esatt	37-36 esatt	35-34 esatt	33-31 esatt	30-29 esatt	28-27 esatt	26-25 esatt	24-23 es	22 esatte
10	10_{meno}	9,5	9	8,5	8	7,5	7	6,5	6	5,5	5

0 errori	1err	2-4 err	5-6 err	7-8 err	9-10 err	11-13 err	14-15 err	16-17 err	18-19 er	20-21 er	22 e più er
10	10_{meno}	9,5	9	8,5	8	7,5	7	6,5	6	5,5	5