


<p>Scuola Primaria paritaria "VIRGINIA AGNELLI"</p> <p>Anno scol. 2015/'16</p> <p>Data.....</p>	<p>Cognome.....</p> <p>Nome.....</p> <p>Ordine alfabetico n°.....Classe 2^ A-B-C</p>	<p>PROVA in USCITA "GEO" Geografia</p>
---	--	--

OSSERVA IL PERCORSO CHE DEVE FARE IL TOPOLINO PER RAGGIUNGERE IL FORMAGGIO.
SCRIVI I PASSI CHE DEVE COMPIERE



<p>3 ←</p>

COLORA DELLO STESSO COLORE GLI OGGETTI UGUALI VISTI DALL'ALTO E DI FRONTE




COMPLETA CON VERO (V) O FALSO (F)

La città è un ambiente completamente costruito dall'uomo	
Il paesaggio rurale appartiene all'ambiente montagna	
Funivia valle e cima sono termini che appartengono all'ambiente montano	
In città gli spazi sono ampi con un traffico scarso	

COLLEGA GLI ELEMENTI CON IL PAESAGGIO IN CUI E' POSSIBILE TROVARLI



MARE



CITTA'



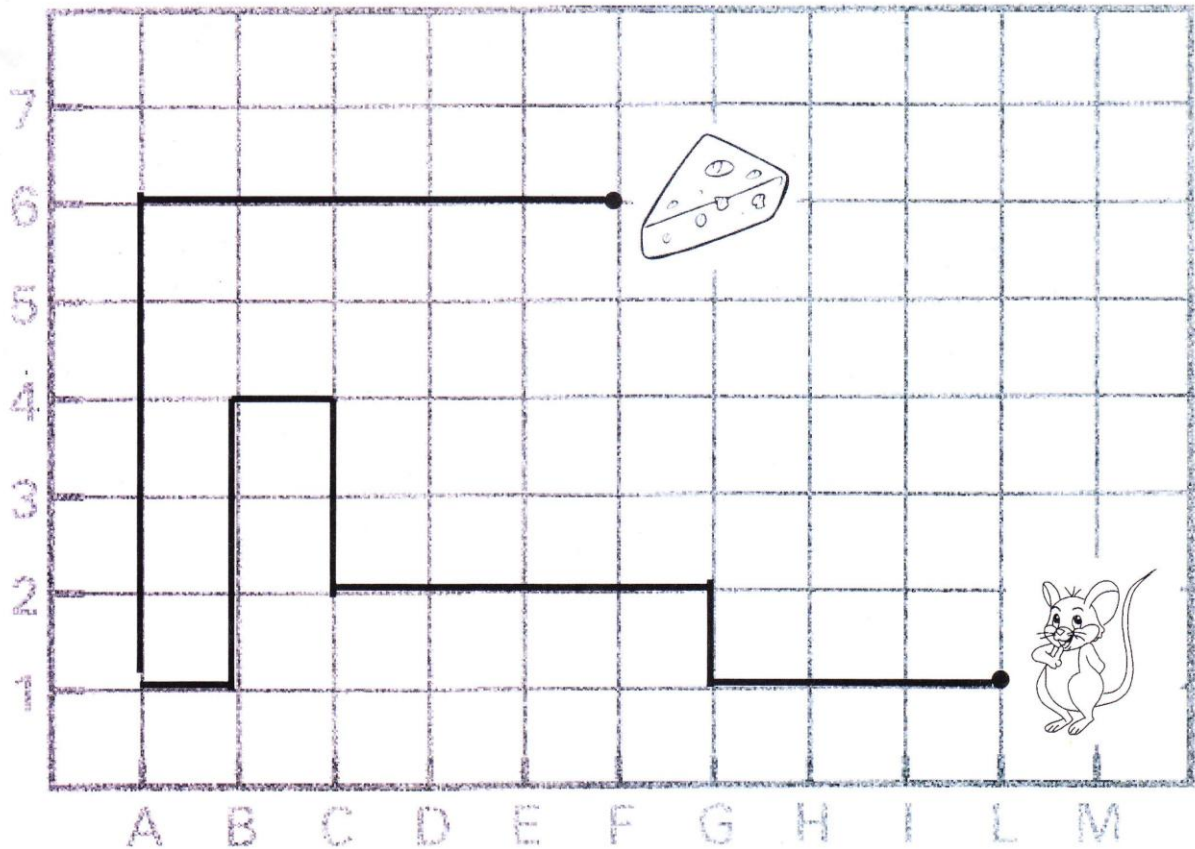
CAMPAGNA

MONTAGNA



CORREZIONE
E CRITERI
DI VALUTAZIONE

OSSERVA IL PERCORSO CHE DEVE FARE IL TOPOLINO PER RAGGIUNGERE IL FORMAGGIO.
SCRIVI I PASSI CHE DEVE COMPIERE



3	←
1	↑
4	←
2	↑
1	←
3	↓
1	←
5	↑
5	→

COLORA DELLO STESSO COLORE GLI OGGETTI UGUALI VISTI DALL'ALTO E DI FRONTE



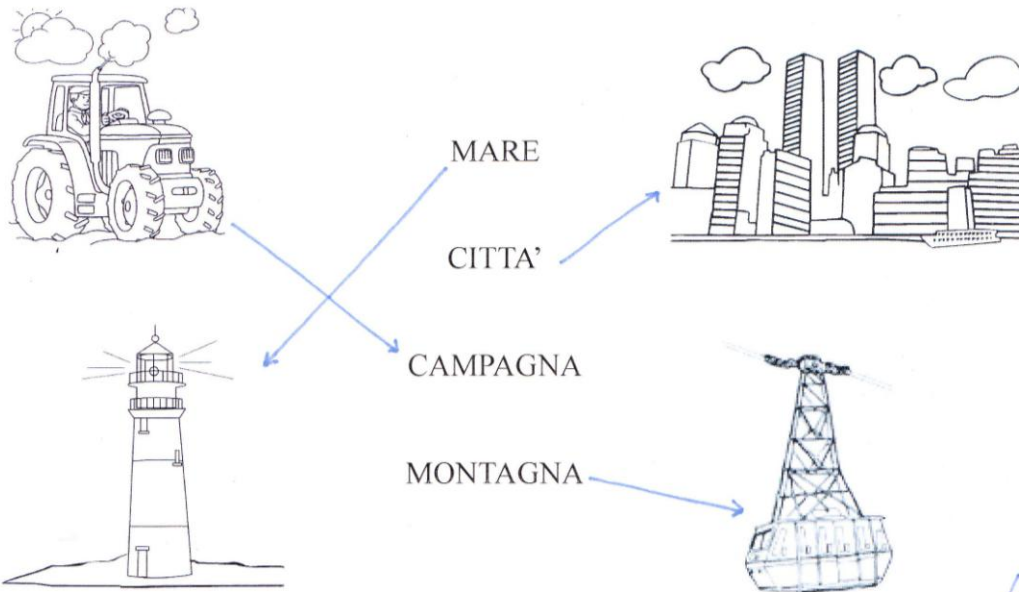
6

COMPLETA CON VERO (V) O FALSO (F)

La città è un ambiente completamente costruito dall'uomo	V
Il paesaggio rurale appartiene all'ambiente montagna	F
Funivia, valle e cima sono termini che appartengono all'ambiente montano	V
In città gli spazi sono ampi con un traffico scarso	F

COLLEGA GLI ELEMENTI CON IL PAESAGGIO IN CUI E' POSSIBILE TROVARLI

4



4

CRITERI per 22 richieste (mezzi voti)

22 esat	21 esat	20 esat	19 esat	18 esat	17 esat	16 esat	15 esat	14 esat	13 esat	12 esatte	11 esatte
10	10meno	9,5	9	8,5	8	7,5	7	6,5	6	5,5	5

0 errori	1 err	2err	3 err	4err	5 err	6err	7err	8err	9 err	10 err	11e più err
10	10meno	9,5	9	8,5	8	7,5	7	6,5	6	5,5	5

